


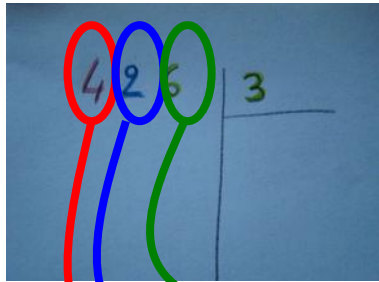


REGLE « DIVISION AVEC PERLES ET TOURILLONS »


1.  **Place** le nombre de tourillons correspondant au diviseur



2.  **Dépose** les perles correspondant au dividende




3.  **Dépose** les perles correspondant au chiffre de gauche du dividende puis note ce premier résultat sur ta feuille



4.  **Procède** aux échanges s' il reste un reste



5.  **Retourne** le couvercle rouge et poursuivre la distribution ainsi de suite jusqu' à ce que le couvercle unité soit terminé ou rempli de perles qu' on ne peut distribuer



$$\begin{array}{r} 426 \quad | \quad 3 \\ -3 \quad \quad \quad \\ \hline 12 \quad \quad \quad \\ -12 \quad \quad \quad \\ \hline 006 \end{array}$$



2 2 2

$$\begin{array}{r} 426 \quad | \quad 3 \\ -3 \quad \quad \quad \\ \hline 12 \quad \quad \quad \\ -12 \quad \quad \quad \\ \hline 006 \\ -6 \quad \quad \quad \\ \hline 0 \end{array}$$