






# REGLE « DIVISER AVEC LES PERLES »

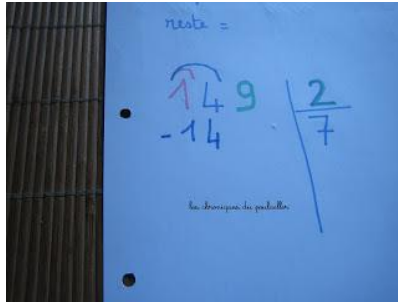
1.  **Place** la quantité à partager sur le grand plateau



2.  **Partage** es perles sur les autres plateaux en commençant par la quantité la plus grande. Si tu ne peux pas, procède aux échanges.



3.  **Reporte** au fur et à mesure de tes distributions sur ta feuille, combien tu as déposé de perles dans chaque petit plateau, combien tu as enlevé de perles du grand plateau puis combien il te reste de perles sur ce grand plateau



reste =


$$\begin{array}{r} \overline{)149} \\ -14 \phantom{0} \\ \hline \end{array} \quad \begin{array}{r} 2 \\ \hline 7 \end{array}$$

la division de perles

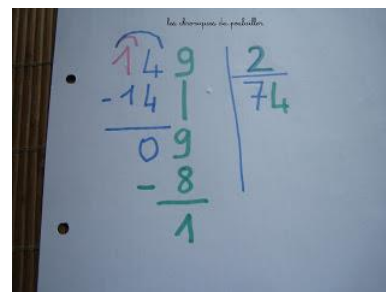


$$\begin{array}{r} \overline{)149} \\ -14 \phantom{0} \\ \hline 09 \end{array} \quad \begin{array}{r} 2 \\ \hline 7 \end{array}$$

la division de perles


4.  **Continue** à partager ce qui te reste en respectant les mêmes étapes





$$\begin{array}{r} \overline{)149} \\ -14 \phantom{0} \\ \hline 09 \\ -8 \phantom{0} \\ \hline 1 \end{array} \quad \begin{array}{r} 2 \\ \hline 74 \end{array}$$

la division de perles

5.  **Ecris** le résultat de ton partage



$$149 \div 2 = 74$$

reste = 1

$$\begin{array}{r} \overline{)149} \\ -14 \phantom{0} \\ \hline \end{array} \quad \begin{array}{r} 2 \\ \hline 74 \end{array}$$

la division de perles